

مخطط فن



الصف الثالث

إعداد وتجميع:

أ. آمنة المخمرية و أ. مريم المعمرية

مدرسة:

بهجة الأنظار لتعليم الاساسي ١-٤



GO!



في نهاية الدرس إن شاء الله سوف أستطيع :

يُحِبُّ عن سؤال من الحياة الواقعية من خلال جمع البيانات وتنظيمها وتفسيرها
مثال: دراسة تعداد الحشرات في البيئات المختلفة.

3Dh1

• أستطيع أن أجيب عن سؤال من الحياة الواقعية من خلال جمع البيانات.

المفردات

قم بتكرار المفردات في دفتر مذكرك



فيديوهات تشرح الدرس

شاهد
وتعلم



<https://www.youtube.com/watch?v=l1-f-UNFHε>

<https://www.youtube.com/watch?v=fVlnNqZBjjw>

روابط تدريبات

<https://wordwall.net/ar/resource/6292460>



امرح
وتدرب

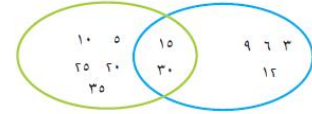
حل أسئلة كتاب التلميذ صفحة ٢٨

كتاب التلميذ


١. (أ) الدائرة اليمين : مضاعف الـ ٣، الدائرة اليسار: مضاعف الـ ٥، المشترك بين الدائرتين: مضاعف الـ ٣ والـ ٥.
- (ب) ١٣، ١٤، ١٦، ١٧، ١٩ خارج المخطط لأنهم ليسوا من مضاعفات الـ ٣ والـ ٥.
- ١٨ من مضاعفات الـ ٣
- ٤٥ من مضاعفات الـ ٣ والـ ٥.
٢. (أ) المسميات: المذكور.
- (ب) تختلف الإجابات بحسب مخططات التلاميذ، مثال: عيون بيّنة، عيون سوداء. قامة طويلة، قامة قصيرة. يمكنك تكوين مجموعة من ثلاثة تلاميذ لتنفيذ هذا النشاط.
٣. تختلف الإجابات باختلاف خيارات التلاميذ.

(١) (أ) فَيَدَاتِ التَّسْبِيَّاتِ مِنْ مَخْطُوطٍ فَرْنِ. مَاذَا يُمَكِّنُ أَنْ تَكْتُبَ التَّسْبِيَّاتِ الجَدِيدَةَ؟ اشرحَ لِمَاذَا.

مَخْطُوطٌ فَرْنِ: طَرِيقَةٌ لِتَصْنِيفِ الأَنسَاءِ حَسَبَ غَضَائِبِهَا المُتخَلِّفَةِ.



- (ب) اُنسَخْ مَخْطُوطَ فَرْنِ، وَأَصِفْ إِلَيْهِ الأَعْدَادَ ١٣، ١٤، ١٦، ١٧، ١٨، ١٩، ٤٥. اشرحَ لِمَاذَا سَتَكُونُ بَعْضُ الأَعْدَادِ خَارِجَ الدَّوَائِرِ.
- (٢) يَلْعَبُ هَؤُلَاءِ الأَطْفَالُ لُغَةً مُستخدِمينَ حَلَقَاتٍ كَبيرةَ لِتَصْنِيفِ أُنثِيهِمْ إِلَى مَجْمُوعَاتٍ مُتخَلِّفَةِ بِقَدْرِ الإِنكِبَانِ.



- (١) مَا التَّسْبِيَّاتِ الَّتِي يُمَكِّنُ أَنْ تَضَعَهَا عَلَى هَذَا المَخْطُوطِ؟
- (ب) أَرَسَمْ بَعْضَ مَخْطُوطَاتٍ فَرْنِ وَوَزَعِ الأَطْفَالُ بِأَكثَرِ عَدَدٍ مُمكنٍ مِنَ الطَّرِيقِ المُتخَلِّفَةِ. صَنَعَ تَسْبِيَّاتٍ عَلَى كُلِّ مَخْطُوطٍ مِنَ مَخْطُوطَاتِ فَرْنِ. كَمْ عَدَدُ الطَّرِيقِ المُتخَلِّفَةِ الَّتِي يُمَكِّنُكَ أَنْ تَضَعَهَا بِهَا؟



فكر

صنف الأعداد الآتية في مخطط فن وأكتب مسميات كل دائرة

٣، ١٢، ١٦، ٩، ١٨، ٢٠، ٢١، ٢٤



صنف الأعداد الآتية في مخطط فن وأكتب مسميات كل دائرة

مضاعفات ٢

مضاعفات ٣

٣، ١٢، ١٦، ٩، ١٨، ٢٠، ٢١، ٢٤



استخدم مخطط فن مع تقاطع لتصنيف الأعداد من ٢٠ إلى ٣٠ بمسميات (عدد زوجي و(مضاعفات ٥)



مضاعفات العدد

عدد زوجي



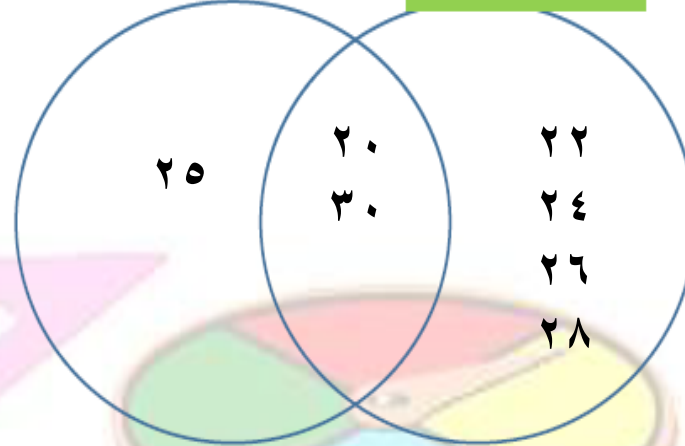
استخدم مخطط فن مع تقاطع لتصنيف الأعداد من ٢٠ إلى ٣٠ بمسميات (عدد زوجي) و(مضاعفات ٥)

٢٠ - ٢١ - ٢٢ - ٢٣ - ٢٤ - ٢٥ - ٢٦ - ٢٧ - ٢٨ - ٢٩ - ٣٠



مضاعفات العدد ٥

عدد زوجي



انتهى
الدرس

معرفتك لمخطط فن يساعدك
على تصنيف الاعداد
والبيانات بشكل سهل